

DATABÁZE ÚLOHY PRO NADANÉ

Poznáváme dvouděložné rostliny

učivo 2. stupně

Mgr. Olga Miklíčková



Zadání:


Přiřaď jednotlivé zástupce na obrázcích do příslušné čeledi (uved' rodový i druhový název). Na konci seznamu obrázků si zkontroluj správné zařazení do čeledí.

Podle fotografií zkus vyhledat shodné znaky jednotlivých čeledí (květ, květenství, typ listů, postavení listů na stonku, okraje listů, atd.). Své poznatky si zkontroluj s atlasem.














21



22




23



24









Správné řešení:

1. hluchavka žlutá – hluchavkovité
2. sasanka hajní – pryskyřníkovité
3. jahodník obecný – růžovité
4. česnáček lékařský – brukvovité
5. třešeň srdcovka – růžovité
6. orsej jarní – pryskyřníkovité
7. hluchavka bílá – hluchavkovité
8. kyčelnice cibulkonosná – brukvovité
9. sedmikráska chudobka – hvězdnicovité
10. bršlice kozí noha – miříkovité
11. kostival lékařský – brutnákovité
12. smetanka lékařská – hvězdnicovité
13. pomněnkovec velkolistý – brutnákovité
14. mochna stříbrná – růžovité
15. kopretina bílá – hvězdnicovité
16. kerblík lesní – miříkovité
17. pryskyřník prudký – pryskyřníkovité
18. kokoška pastuší tobolka – brukvovité
19. jetel plazivý – bobovité

20. lilek rajče – lilkovité
21. jetel luční – bobovité
22. trnovník akát – bobovité
23. kuklík městský – růžovité
24. miřík celer – miříkovité
25. štírovník růžkatý – bobovité
26. ředkvička celoroční – brukvovité
27. máta peprná – hluchavkovité
28. paprika roční – lilkovité
29. lilek brambor – lilkovité
30. pomněnka lesní – brutnákovité
31. řepík lékařský – růžovité
32. koniklec velkokvětý – pryskyřníkovité
33. kopr vonný – miříkovité
34. levandule lékařská – hluchavkovité
35. jaterník podléška – pryskyřníkovité
36. slunečnice roční – hvězdnicovité
37. durman neškodný – lilkovité
38. řebříček obecný – hvězdnicovité

Závěr:

Učební materiál lze využít v hodinách přírodopisu na 2. stupni ZŠ, popřípadě na nižších stupních víceletých gymnázií.

Zdroje obrázků: vlastní fotky autorky.

